

- 1) Vyberte si 3 libovolné obce na Příbramsku

.....

- 2) Na geoportálu <http://geoportal.gov.cz> najděte v mapových kompozicích následující informace k jednotlivým obcím:

Pod kterou obec s rozšířenou působností patří vaše obec?

.....

Zakroužkujte písmena u jednotlivých obcí podle toho, jaký druh služeb a obslužnosti poskytují.

P – plynofikace, K – kanalizace, V – vodovod, MŠ – mateřská škola, ZŠ – základní škola, O – obchod, R – restaurace, H – zdravotnické zařízení, Pš – pošta, Po – policie, T – kontejnery na tříděný odpad

P K V MŠ ZŠ O R

P K V MŠ ZŠ O R

P K V MŠ ZŠ O R




H Pš Po T

H Pš Po T

H Pš Po T

- 3) Ze statistického lexikonu obcí na stránkách [www.czso.cz](http://www.czso.cz) vytvořte grafy

- a) poměr mužů a žen v procentech



- b) věkové rozložení obyvatelstva (0-14, 15- 64, 65 a více)



- 4) Které další zajímavé informace jste během pátrání o vašich obcích našli?  
(náboženství, nezaměstnanost, zaměstnanost, atd.)